



evropský
sociální
fond v ČR



EVROPSKÁ UNIE



MINISTERSTVO ŠKOLSTVÍ,
MLÁDEŽE A TĚLOVÝCHOVY



OP Vzdělávání
pro konkurenceschopnost



INVESTICE DO ROZVOJE VZDĚLÁVÁNÍ

Projekt CZ.1.07/1.1.10/03.0007 Zavádění ŠVP na gymnáziu – projekt GOTIKA Projektový den – II.E

- 1) Na portálu kláštera vedle zahrady se sochy světců je latinský nápis. Sancta Maria V něm jsou některá písmena větší než ostatní a vytváří tzv. chronogram. Pokud umíš latinské číslice, tak ho snadno vyluštíš. Vypiš zvýrazněná písmena, sečti je a výsledný letopočet napiš do rámečku.

--

- 2) V klášterní zahradě jsou sochy světců od barokního sochaře Josefa Dietricha. Představují řadu světců a biblických postav uctívaných už ve středověku. Na obrázku máš fotografie soch, jména a ukázky z legend či Bible. Zkus spojit sochu, úryvek a jméno do jednoho celku. Pomohou ti nápisy pod sochami.

sv. Anna	<p>...vůdce a slavný otec Řádu kazatelů, z končin hispánských, se narodil z rodičů jménem Felix a Jana. Před jeho narozením se jeho matce zdálo, že nosí v lůně štěně, které si v tlamě pohrává s hořící pochodní a po narození jí podpálí celý stávající svět.</p>	
sv. Dominik	<p>Anděl mu řekl: „Neboj se, neboť tvá prosba byla vyslyšena; tvá manželka Alžběta ti porodí syna a dá mu jméno Jan. Já jsem anděl Gabriel, byl jsem poslán, abych ti oznámil tuto radostnou zprávu. Poněvadž jsi neuvěřil mým slovům, oněmíš a nepromluvíš do dne, kdy se to stane. Když se pak chlapec narodil, obrátili se na otce, jaké mu chce dát jméno. On požádal o tabulku a napsal na ni: Jeho jméno je Jan.</p>	



evropský
sociální
fond v ČR



EVROPSKÁ UNIE




MINISTERSTVO ŠKOLSTVÍ,
MLÁDEŽE A TĚLOVÝCHOVY



OP Vzdělávání
pro konkurenceschopnost

INVESTICE DO ROZVOJE VZDĚLÁVÁNÍ

Projekt CZ.1.07/1.1.10/03.0007 Zavádění ŠVP na gymnáziu – projekt GOTIKA Projektový den – II.E

<p>sv. Zachariáš</p>	<p>Jáchym si pak vzal manželku jménem, která měla sestru jménem Hismeria. ... prý měla tři muže, totiž Jáchyma, Kleofáše a Salome. Z prvního muže porodila jednu dceru, Marii, matku Páně, tu dala za manželku Josefovi. Po Jáchymově smrti se provdala za Josefova bratra Kleofáše a měla s ním druhou dceru, kterou pojmenovala také Marie. Po smrti druhého muže se provdala potřetí, za Salomeho a měla s ním třetí dceru, tu pojmenovala opět Marie. Ta měla dva syny, Jakuba Většího a Jana Evangelistu.</p>	
--------------------------	--	---

- 3) Chrám Obětování Panny Marie byl vybudován krátce po založení města, ale během staletí byl několikrát stavebně upravován.
Zkus určit alespoň dva ze tří stavebních slohů, které můžeme dodnes na stavbě vidět a napiš je do rámečku.

--	--	--

- 4) Trocha historie. Vzpomeň si, na pár základních údajů o založení města a doplň je do tabulky.

Kdo založil České Budějovice?	Kdy se tak stalo?	Jak se jmenoval lokátor, který řídil výstavbu města?	Jaká stavba pamatuje první desetiletí po založení města?

- 5) Z gotického opevnění se mnoho staveb nedochovalo. Přesto máme tři věže, které nám středověkou historii připomínají. Jak se věže jmenují?

--	--	--



evropský
sociální
fond v ČR



EVROPSKÁ UNIE



MINISTERSTVO ŠKOLSTVÍ,
MLÁDEŽE A TĚLOVÝCHOVY



OP Vzdělávání
pro konkurenceschopnost

INVESTICE DO ROZVOJE VZDĚLÁVÁNÍ

Projekt CZ.1.07/1.1.10/03.0007 Zavádění ŠVP na gymnáziu – projekt GOTIKA Projektový den – II.E

- 6) V místě, kde se končí Široká ulice, poté co se protne s Biskupskou ulicí (vede z náměstí směrem k Zimnímu stadionu) je nakreslený obraz Panny Marie Budějovické, který měl velký význam pro zobrazování matky Ježíše Krista v Českých Budějovicích. Nakresli, nebo popiš, jak vypadají šaty Panny Marie, protože je můžeme najít i na dalších obrazech či sochách ve městě, jako například nad barokním portálem dominikánského kláštera, na mariánském sloupu na stejnojmenném náměstí a jinde.

--

- 7) Vysvětli, kdo byli:

rychtář	purkmistr	biřic	konšel